



REINGRESSO E MUDANÇA DE CURSO	2023	GEOGRAFIA
--	-------------	------------------

CADERNO DE QUESTÕES

INSTRUÇÕES AO CANDIDATO

- Você deverá ter recebido o Caderno com a Proposta de Redação, a Folha de Redação, dois Cadernos de Questões e o Cartão de Respostas com o seu nome, o seu número de inscrição e a modalidade de ingresso. Confira se seus dados no Cartão de Respostas estão corretos e, em caso afirmativo, assine-o e leia atentamente as instruções para seu preenchimento.
- Verifique se este Caderno contém enunciadas 20 (vinte) questões de múltipla escolha de **GEOGRAFIA** e se as questões estão legíveis, caso contrário, **informe imediatamente ao fiscal**.
- Cada questão proposta apresenta quatro opções de resposta, sendo apenas uma delas a correta. A questão que tiver sem opção assinalada receberá pontuação zero, assim como a que apresentar mais de uma opção assinalada, mesmo que dentre elas se encontre a correta.
- Não é permitido usar qualquer tipo de aparelho que permita intercomunicação, nem material que sirva para consulta.
- O tempo disponível para a realização de todas as provas, incluindo o preenchimento do Cartão de Respostas é, no mínimo, de **uma hora e trinta minutos** e, no máximo, de **quatro horas**.
- Para escrever a Redação e preencher o Cartão de Respostas, use, exclusivamente, caneta esferográfica de corpo transparente de ponta grossa com tinta azul ou preta (preferencialmente, com tinta azul).
- Certifique-se de ter assinado a lista de presença.
- Quando terminar, entregue ao fiscal a Folha de Redação, que será desidentificada na sua presença, e o Cartão de Respostas, que poderá ser invalidado se você não o assinar. Se você terminar as provas antes de três horas do início das mesmas, entregue também ao fiscal os Cadernos de Questões e o Caderno com a Proposta de Redação.

AGUARDE O AVISO PARA INICIAR SUAS PROVAS.

01 Considere o texto sobre a problemática urbana no Brasil.

Durante muito tempo e à luz de teorias espaciais consagradas, as grandes cidades eram consideradas os lugares de crescimento, enquanto o resto do país teria dificuldades para decolar. Hoje, porém, apreciando a evolução de numerosos indicadores econômicos e sociais das diversas áreas metropolitanas brasileiras, em relação ao que se passa com o resto do país tomado como um todo e, particularmente, em confronto com aquelas regiões do interior constata-se que, agora, estas últimas conhecem um processo de modernização distinto que seria um resultado de difusão no território daquilo a que chamamos de meio técnico-científico, por sua vez, consequência da difusão à escala mundial das variáveis que caracterizam o presente período histórico,

Disponível em: <https://revista.fct.unesp.br/index.php/cpg/article/view/7226>. Acesso em: 15 dez. 2022.

No texto, descreve-se um aspecto recente do processo de urbanização brasileiro denominado:

- (A) Conurbação.
- (B) Gentrificação.
- (C) Cidade-região.
- (D) Involução metropolitana.

02 Considere o texto sobre os tecnopolos no Brasil.

Ainda que não seja considerado um país de ponta nos quesitos de pesquisa e desenvolvimento tecnológico no mundo, o Brasil tem uma extensa história de inovação em diversas áreas da ciência. O país originou diversos avanços nos campos da agricultura, dos biocombustíveis, da medicina e da computação, que foram atingidos principalmente por causa da presença de universidades e institutos mundialmente respeitados. Há algum tempo, os governos federal, estaduais e municipais têm investido pesado na criação de novos polos de pesquisa e desenvolvimento de tecnologia, conhecidos como tecnopolos, devido à alta rentabilidade que essas iniciativas oferecem a longo prazo. Isso pode significar que a tradicional concentração desses centros nas prósperas regiões do Sudeste e Sul não será mais mantida, de modo que outras regiões também poderão oferecer as condições necessárias para a criação de grandes centros de pesquisa.

Disponível em: <https://techinbrazil.com.br/tecnopolos-no-brasil>. Acesso em: 15 dez. 2022.

A maioria dos tecnopolos encontra-se na seguinte porção do território nacional:

- (A) Nordeste, como no exemplo de Recife.
- (B) Amazônia, como no exemplo de Manaus.
- (C) Nordeste, como no exemplo de Camaçari.
- (D) Centro-Sul, como no exemplo de Campinas.

03 Considere a imagem a seguir.



Disponível em: <http://profvladimir.blogspot.com/2012/02/mapas-sobre-industria.html>. Acesso em: 15 dez. 2022.

Na Amazônia Legal, com exceção das capitais estaduais, o maior número de empresas industriais encontra-se em:

- (A) Carajás.
- (B) Manaus.
- (C) Santarém.
- (D) Alto Rio Negro.

04 Considere o texto sobre a hierarquia urbana brasileira.

Dentro da rede urbana, as cidades são os nós dos sistemas de produção e distribuição de mercadorias e de prestação de serviços diversos, que organizam segundo níveis hierárquicos distribuídos de forma desigual pelo território. Por exemplo, o Centro-Sul do país possui uma rede urbana com grande número de metrópoles, capitais regionais e centros sub-regionais, bastante articulados entre si.

MOREIRA, J.; SENE, E. *Geografia Geral e do Brasil*. São Paulo: Scipione, 2017, p. 222-223. Adaptado.

No Centro-Sul, identifica-se como centro sub-regional a seguinte cidade:

- (A) Vitória.
- (B) São Paulo.
- (C) Rio de Janeiro.
- (D) Angra dos Reis.

05 Considere o texto sobre fluxos populacionais no Brasil.

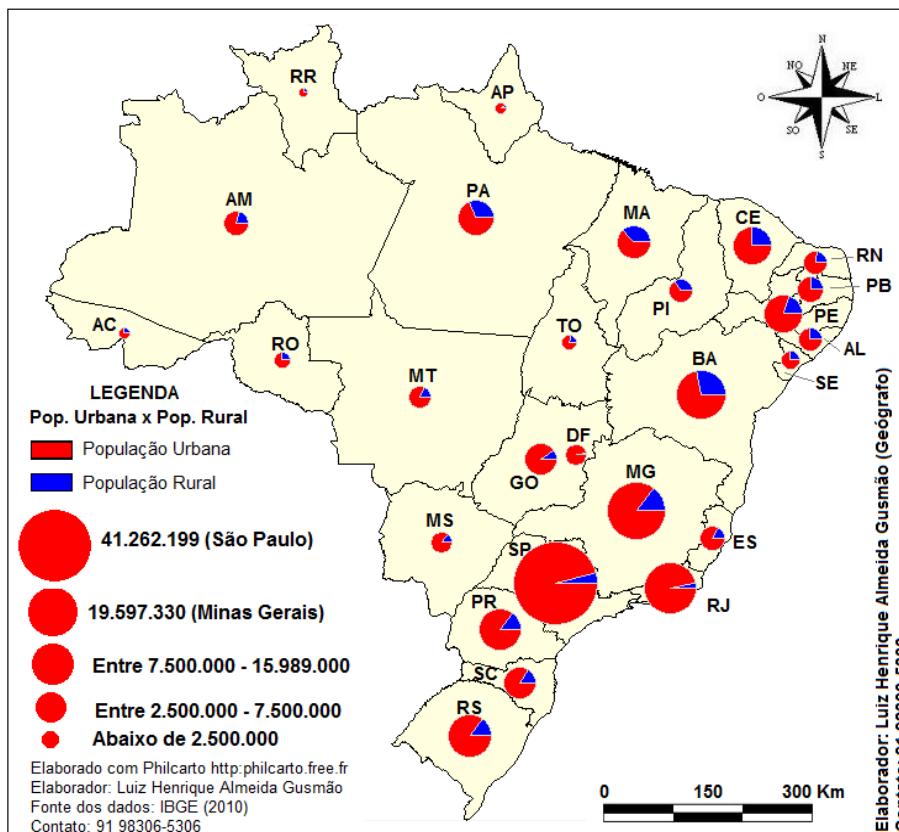
Segundo dados divulgados na 7ª edição do relatório “Refúgio em Números”, apenas em 2021, foram feitas 29.107 solicitações da condição de refugiado, sendo que o Conare reconheceu 3.086 pessoas de diversas nacionalidades como refugiadas. Tanto os homens (55,2%) como as mulheres (44,8%) reconhecidos como refugiados encontravam-se, predominantemente, na faixa de 5 a 14 anos de idade (50,4%).

Disponível em: <https://www.acnur.org/portugues/dados-sobre-refugio/dados-sobre-refugio-no-brasil/>. Acesso em: 15 dez. 2022.

Nesse contexto, o maior número de refugiados reconhecidos no período é da nacionalidade:

- (A) Síria.
- (B) Mexicana.
- (C) Congolesa.
- (D) Venezuelana.

06 Observe a imagem abaixo.



Disponível em: <http://geocartografiadigital.blogspot.com/2016/01/brasil-cartografia-da-populacao-com-o.html>. Acesso em: 15 dez. 2022.

Em números percentuais, os estados do Sudeste com os maiores contingentes de população rural equivalentes entre si são:

- (A) Minas Gerais e São Paulo.
- (B) Rio de Janeiro e São Paulo.
- (C) Minas Gerais e Espírito Santo.
- (D) Espírito Santo e Rio de Janeiro.

07 Considere o texto sobre a globalização atual.

A globalização financeira é o processo pelo qual as barreiras entre os mercados financeiros dos diferentes países do mundo são reduzidas. Assim, poupar e investir tornam-se além da fronteira. A globalização financeira consiste então em uma maior mobilidade de capital em todo o mundo. Isso significa que os agentes econômicos estão buscando entre vários países as melhores alternativas de investimento, dependendo do risco e do retorno esperado.

Disponível em: <https://pt.economy-pedia.com/11038968-financial-globalization>. Acesso em: 15 dez. 2022.

O desenvolvimento do processo mencionado está diretamente vinculado ao seguinte aspecto do mundo contemporâneo:

- (A) mundialização das alianças militares.
- (B) revolução tecnológica de base informática.
- (C) internacionalização dos fóruns socioambientais.
- (D) autonomização das bases sindicais de trabalhadores.

08 Considere o texto sobre tipos de agricultura.


Tipos de agricultura correspondem a diferentes maneiras de produção agrícola, as quais se adequam às características do ambiente no qual serão realizadas. Um tipo de agricultura corresponde à monocultura cuja produção é feita em grandes extensões de terra e sua produção é voltada para o abastecimento do mercado externo geralmente. Em virtude da intensa mecanização, esse tipo de agricultura possui altos índices de produtividade. Nele, empregam-se máquinas e tecnologias para aumentar o rendimento do cultivo.

Disponível em: <https://mundoeducacao.uol.com.br/geografia/tipos-agricultura.htm>. Acesso em: 15 dez. 2022. Adaptado.

O tipo de agricultura mencionado acima é denominado:

- (A) permacultura.
- (B) agricultura orgânica.
- (C) agricultura comercial.
- (D) agricultura sustentável.

09 Observe a imagem de uma paisagem natural nordestina.



Disponível em: <https://agenciaeconordeste.com.br/paisagens-granilíticas-do-nordeste-precisam-ser-conhecidas-valorizadas-e-preservadas/>. Acesso em: 15 dez. 2022.

Na imagem, registra-se uma forma de relevo cristalino denominada:

- (A) Cuesta.
- (B) Inselberg.
- (C) Tômbolo.
- (D) Chapada.

10 Considere o texto sobre a demografia brasileira.

A direção da população brasileira, na primeira metade deste século, tanto pelo seu calibre quanto pela sua estrutura etária, já está delineada. A pirâmide etária brasileira, que possuía uma base larga e o topo estreito, apregoando a superioridade de crianças e jovens, recentemente, apresenta características de equilíbrio. Conforme projeções da ONU, de 3,1%, em 1970, a população idosa brasileira passará a aproximadamente 19% até 2050.

Disponível em: <https://www.todamateria.com.br/populacao-brasileira/>. Acesso em: 15 dez. 2022. Adaptado.

A pirâmide etária que se delineia atualmente no País resulta do seguinte fator:

- (A) redução da expectativa de vida.
- (B) redução da taxa de fecundidade.
- (C) incremento da taxa de natalidade.
- (D) aumento do crescimento vegetativo.

11 Considere o texto sobre as cidades globais.

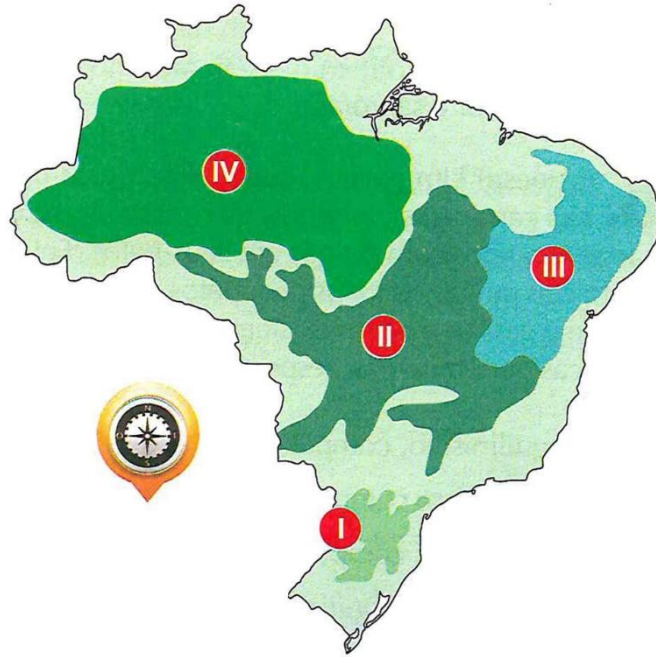
As cidades globais representam as metrópoles mundiais que possuem uma estrutura complexa e grande importância e influência no mundo e, por isso, também são chamadas de cidades mundiais. O termo foi utilizado pela primeira vez pela socióloga Saskia Sassen, com o intuito de as distinguir das megacidades na classificação de hierarquia urbana. Segundo a hierarquia urbana, as cidades globais estão no topo hierárquico. Elas sofreram mudanças significativas em sua estrutura decorrentes do processo de globalização. Correspondem, assim, aos centros mundiais urbanos, culturais, financeiros, econômicos, políticos e industriais de maior desenvolvimento do mundo. No total, cerca de 60 cidades no mundo são consideradas cidades globais, sendo que a maioria delas está concentrada no continente europeu. Segundo o nível de influência que exercem, as cidades globais são divididas hierarquicamente em três tipos: alfa, beta e gama.

Disponível em: <https://www.todamateria.com.br/o-que-sao-cidades-globais/>. Acesso em: 15 dez. 2022.

Identifica-se como cidade global do tipo alfa:

- (A) Paris.
- (B) Roma.
- (C) Lisboa.
- (D) Rio de Janeiro.

12 Observe a imagem a seguir.



Disponível em: <https://www.indagacao.com.br/2018/04/o-mapa-abaixo-indica-quatro-biomas.html>. Acesso em: 15 dez. 2022.

Na imagem, o bioma da caatinga é identificado pelo algarismo:

- (A) I.
- (B) II.
- (C) III.
- (D) IV.

13 Considere o texto sobre cidade sustentável.

O principal objetivo da cidade sustentável é evitar o esgotamento do meio ambiente e garantir sua permanência para gerações futuras. Por isso, as políticas públicas devem pensar sempre no futuro. Como a maior parte da população mundial vive em zonas urbanas, as cidades se tornaram o epicentro de problemas como a poluição e o desperdício de recursos naturais. Por esta razão, são os centros urbanos que devem se reinventar a fim de que o futuro das próximas gerações esteja garantido e seja melhor do que o mundo em que vivemos hoje.

Disponível em: <https://www.todamateria.com.br/cidade-sustentavel/>. Acesso em: 15 dez. 2022.

A prática social concebida como diretriz de gestão das cidades sustentáveis é:

- (A) gentrificação de áreas centrais.
- (B) reciclagem de resíduos sólidos.
- (C) redução do transporte de massa.
- (D) verticalização de áreas periféricas.

14 Considere o texto sobre o conflito geopolítico na Eurásia.

No final de setembro, o presidente russo, Vladimir Putin, anunciou a anexação de quatro regiões ucranianas, depois de ter realizado "referendos" locais denunciados como fictícios por Kiev e pelo Ocidente. Putin admitiu que a situação está "extremamente difícil" nas regiões de Donetsk e Luhansk. Ele elogiou o trabalho dos membros desses serviços que operam nas "novas regiões da Rússia", garantindo que "as pessoas que lá vivem, cidadãos russos", dependam da "proteção" desses serviços.

Disponível em: <https://www.gazetadopovo.com.br/mundo/putin-reconhece-situacao-extremamente-dificil-nos-territorios-sob-controle-russo/>. Acesso em: 15 dez. 2022.

Essas duas regiões pretendidas pela Rússia localizam-se na seguinte porção do território ucraniano:

- (A) Crimeia, às margens do Mar Negro.
- (B) Central, em torno da capital nacional Kiev.
- (C) Leste, na fronteira com a Federação Russa.
- (D) Oeste, na fronteira terrestre com a Belarus.

15 Observe a imagem da cidade de Damasco, na Síria.



Disponível em: <https://www.dw.com/es/siria-miles-abandonan-zona-al-norte-de-damasco-tras-pacto/a-43460575>. Acesso em: 15 dez. 2022.

Essa situação da capital síria é provocada pela ocorrência de uma guerra:

- (A) civil.
- (B) química.
- (C) biológica.
- (D) de guerrilhas.

16 Considere o texto sobre conflito geopolítico regional.

Em 2006, o mundo presenciou mais um conflito armado, desta vez entre o Líbano e Israel. Em uma ação desafiadora, o grupo xiita libanês provocou um ataque em Israel. No ataque, morreram oito soldados e dois foram presos. Após o ataque, Israel tomou uma atitude ofensiva militar contra os libaneses, com uma ação destruidora. No dia seguinte aos ataques recebidos, Israel, temendo ser bombardeado, teve uma ação defensiva frente aos ataques libaneses.

Disponível em: <https://brasilecola.uol.com.br/guerras/guerra-entre-libano-israel.htm>. Acesso em: 15 dez. 2022.

O grupo islâmico que assume os ataques libaneses a Israel é o:

- (A) Hamas.
- (B) Hezbolah.
- (C) Al Qaeda.
- (D) Boko Haram.

17 Considere o texto sobre os BRICS.

Em 2001, Jim O'Neill, então economista-chefe do banco de investimentos Goldman Sachs, descreveu pela primeira vez uma nova divisão de trabalho na economia mundial: *Building better global economic BRICs*. Em português, seria algo como "o mundo precisa de melhores tijolos econômicos", num trocadilho entre a palavra em inglês para tijolos (*brick*) e o acrônimo BRIC: Brasil, Rússia, Índia e China. As previsões sobre esse bloco de países tinham como base uma nova divisão de trabalho, segundo a qual esses países fortaleceriam sua posição na economia mundial. Assim, o Brasil se tornaria o "armazém das matérias-primas" ou "cesta de pão" para a economia global; a Rússia, "posto de abastecimento do mundo", por causa de suas reservas energéticas; a Índia, o "think tank", devido a sua indústria de tecnologia da informação; e a China viraria a grande "fábrica" global. Em 2006, uniram-se para formar uma comunidade que se encontrou formalmente pela primeira vez em 2009. A África do Sul aderiu em 2011. Desde então, o clube das economias emergentes tem sido chamado de BRICS.

Disponível em: <https://www.brasildefato.com.br/2021/08/05/vinte-anos-depois-brasil-virou-segundo-escalao-dos-brics-economia-do-pais-perdeu-o-prumo>. Acesso em: 15 dez. 2022.

No momento de sua formação, os quatro países que compõem esse bloco tinham em comum o fato de constituírem:

- (A) estados falidos.
- (B) potências globais.
- (C) ditaduras políticas.
- (D) economias emergentes.

18 Considere o texto sobre a agricultura no Brasil.

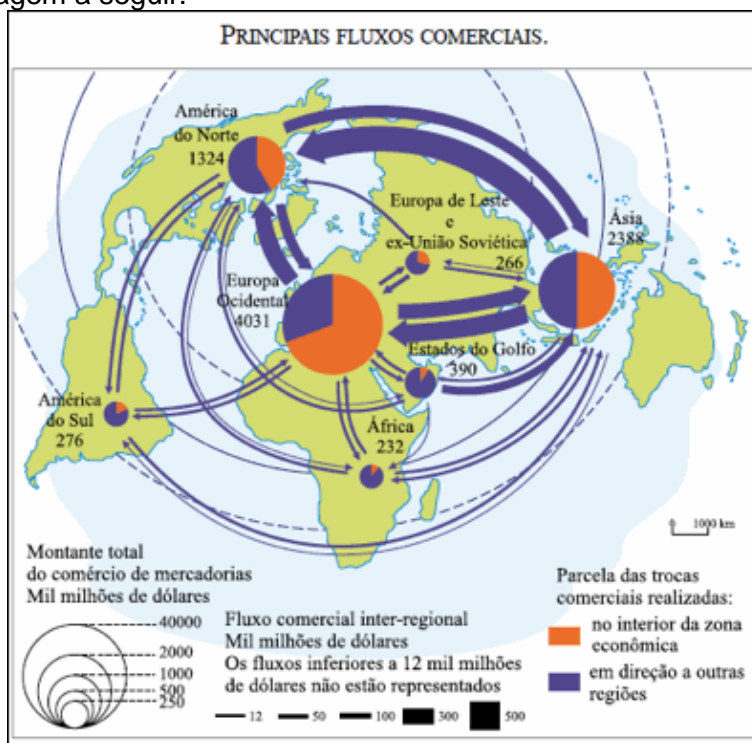
Ao longo da história, o setor da agricultura no Brasil passou por diversos ciclos e transformações, indo desde a economia canavieira, pautada principalmente na produção de cana-de-açúcar durante o período colonial, até as recentes transformações e a expansão do café e da soja. Atualmente, essas transformações ainda ocorrem, sobretudo garantindo um ritmo de sequência às transformações técnicas ocorridas a partir do século XX, como a mecanização da produção e a modernização das atividades. Podemos dizer que a principal marca da agricultura no Brasil atual – e, por extensão, da pecuária – é a formação dos complexos agrícolas. Nesse contexto, destacam-se a produção de soja, da carne para exportação e da cana-de-açúcar para a produção de biomassa e etanol.

Disponível em: <https://mundoeducacao.uol.com.br/geografia/agricultura-no-brasil-atual.htm>. Acesso em: 15 dez. 2022. Adaptado.

No contexto atual, a maior produção sucroalcooleira do País situa-se no seguinte estado:

- (A) Minas Gerais.
- (B) Pernambuco.
- (C) São Paulo.
- (D) Goiás.

19 Observe a imagem a seguir.



Disponível em: http://www.geografiaparatodos.com.br/index.php?pag=captulo_4_globalizacao_e_redes_da_economia%20mundial. Acesso em: 15 dez. 2022.

O maior fluxo intrarregional é realizado pelo bloco econômico:

- (A) NAFTA.
- (B) ANSEAN.
- (C) Mercosul.
- (D) União Europeia.

20 Observe a imagem abaixo.



Disponível em: <http://www.leg.uefs.br/modules/conteudo/conteudo.php?conteudo=21>. Acesso em: 15 dez. 2022.

Na charge, registra-se uma crítica dirigida diretamente ao seguinte problema socioespacial:

- (A) racismo ambiental.
- (B) déficit habitacional.
- (C) insegurança pública.
- (D) desproteção vacinal.

