

CADERNO DE QUESTÕES

**REINGRESSO OU
MUDANÇA DE CURSO 2026**

GEOGRAFIA

INSTRUÇÕES AO CANDIDATO

LEIA COM ATENÇÃO ANTES DE INICIAR A PROVA

1. Antes de iniciar a prova, faça essas verificações no seu Caderno de Questões:
 - a) Os Cadernos de Questões que você tem em mãos são da modalidade que você escolheu? Verifique a modalidade no título desta página.
 - b) Os Cadernos de Questões que você tem em mãos são das disciplinas corretas para a sua opção de Curso, conforme o Edital?
 - c) Este Caderno de Questões contém enunciadas e legíveis 20 questões de múltipla escolha de **GEOGRAFIA**?
 - d) Cada questão contém 4 opções de resposta?Caso haja divergência em alguma dessas verificações, solicite imediatamente ao fiscal a presença do Chefe do Local para as devidas providências.

ATENÇÃO: A correção do Cartão de Respostas obedecerá rigorosamente os Tópicos que compõem a Prova, observados a modalidade e o Curso pretendidos, conforme disposto no subitem 4.4.3 do Edital.

2. Assine a Lista de Presença / Ata de Sala assim que entrar na sala.
3. Verifique se o Cartão de Respostas recebido é o seu. Verifique seu Nome, Data de Nascimento e Documento de Identificação.
4. Assine o Cartão de Respostas no campo próprio.
5. Transcreva a frase que consta no rodapé desta página para o campo “exame grafotécnico” no Cartão de Respostas.
6. Leia com atenção as instruções para preenchimento do Cartão de Respostas. Pequenas marcações ou rasuras invalidam a sua resposta. Não deixe de ler as instruções para o correto preenchimento e para evitar erros desnecessários.
7. Para preencher o Cartão de Respostas, use exclusivamente caneta esferográfica de corpo transparente de ponta grossa com tinta azul ou preta (preferencialmente, com tinta azul).
8. Não é permitido usar qualquer tipo de aparelho que permita intercomunicação, nem material que sirva para consulta.
9. O tempo disponível para a realização de todas as provas, incluindo a Redação e o preenchimento do Cartão de Respostas é de **quatro horas**.
10. O candidato só poderá entregar a prova e retirar-se do Local de Prova após uma hora e trinta minutos de seu início.
11. O candidato só poderá levar o Caderno de Questões quando restar uma hora para o término da prova. A não entrega do Caderno de Questões antes desse horário poderá implicar na sua eliminação no Processo Seletivo.

AGUARDE O AVISO PARA INICIAR SUAS PROVAS.

**FRASE A SER TRANSCRITA PARA O CARTÃO DE RESPOSTAS NO QUADRO
“EXAME GRAFOTÉCNICO”**

A educação não é o aprendizado de fatos, mas o treinamento da mente para pensar

Albert Einstein

01 Considere o texto sobre o processo de metropolização.

Tratando da urbanização brasileira, Milton Santos defendeu a ocorrência de um processo de atenuação das macrocefalias, em que além do desenvolvimento daquilo que denominou de “cidades milionárias”, desenvolveram-se também cidades intermediárias, ao largo das cidades locais. O geógrafo chama a atenção para o desenvolvimento espraiado das cidades brasileiras, que seria um traço característico da especulação. Tal fenômeno foi percebido por ele como uma “metropolização contemporânea” ou uma “desmetropolização”. Santos notou que, apesar do desenvolvimento colossal das metrópoles, no quesito informação e comunicação, elas tenderam a certa involução metropolitana, já que apresentavam crescimento inferior ao das cidades intermediárias, localizadas nas regiões dinâmicas agrícolas.

Disponível em:
<https://www.observatoriodasmetrolopes.net.br/desmetropolizacao-uma-reflexao-a-partir-de-milton-santos/>. Acesso em: 31 out. 2025. Adaptado.

A cidade intermediária cujo desenvolvimento econômico confirma a ideia de Milton Santos é:

- (A) Belo Horizonte, reforçando a desconcentração industrial
- (B) Rio de Janeiro, modificando a hierarquia urbana do Sudeste
- (C) Campinas, redefinindo a divisão territorial do trabalho no País
- (D) São Paulo, mantendo a posição urbana como metrópole global

02 Considere o texto sobre o Polo Industrial de Camaçari.

O Polo Industrial de Camaçari iniciou suas operações no final da década de 1970, sendo o primeiro complexo do seu tipo planejado do País e está localizado no município de Camaçari, a 50 quilômetros de Salvador, no Estado da Bahia.

Maior complexo industrial integrado do Hemisfério Sul, o Polo tem mais de 90 empresas diversificadas. Com a atração de novos empreendimentos para a Bahia, o Polo de Camaçari experimenta novo ciclo de expansão, gerando mais oportunidades de emprego e renda para o Nordeste.

Disponível em:
<https://www.coficpolo.com.br/pagina.php?p=39>. Acesso em:
 31 out. 2025. Adaptado.

A influência regional das atividades desse polo industrial é reforçada pelo destaque do seguinte setor produtivo:

- (A) Atividade petroquímica
- (B) Extração de sal marinho
- (C) Agroindústria açucareira
- (D) Exploração de terras raras

03 Observe a imagem sobre a mobilidade pendular do trabalho na indústria de petróleo.

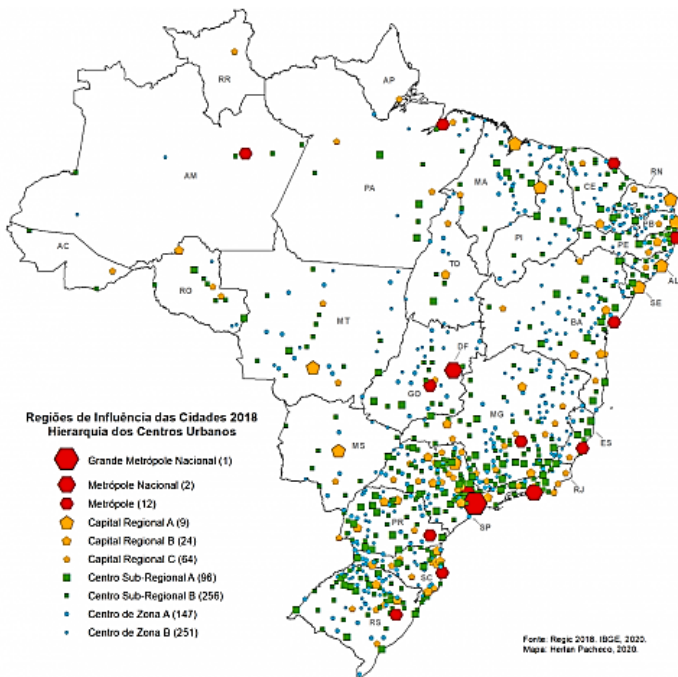


Disponível em:
<https://journals.openedition.org/espacoconomia/18262?lang=en>. Acesso em: 31 out. 2025.

A maior intensidade do fluxo pendular do trabalho no setor petróleo ocorre entre os complexos regionais:

- (A) Amazônia e Centro-Sul, com o destaque da Região Sul
- (B) Nordeste e Amazônia, com o destaque da Região Norte
- (C) Nordeste e Centro-Sul, com o destaque da Região Sudeste
- (D) Centro-Sul e Centro-Oeste, com o destaque da Região Sudeste

04 Considere a imagem sobre a hierarquia dos centros urbanos no Brasil.



Disponível em: <https://journals.openedition.org/confins/33618?lang=pt>. Acesso em: 31 out. 2025.

No Nordeste, dentre os centros urbanos classificados como capital regional encontra-se:

- (A) Recife
- (B) Salvador
- (C) Fortaleza
- (D) João Pessoa

05 Considere o texto sobre o crescimento populacional no Brasil.

Nos últimos 50 anos houve aumento demográfico no território brasileiro, o país teve um aumento de aproximadamente 130 milhões de pessoas. No curto período de 1991 a 2005, a população brasileira teve um crescimento próximo a 38 milhões de indivíduos. Segundo o Censo de 2022, a população brasileira ultrapassa os 200 milhões de habitantes. No entanto, acompanhando uma tendência mundial, o crescimento demográfico brasileiro vem sofrendo reduções nos últimos anos. A população continuará aumentando, porém, as porcentagens de crescimento estão despencando.

Disponível em: <https://brasilescola.uol.com.br/brasil/o-crescimento-da-populacao-brasileira.htm>. Acesso em: 31 out. 2025. Adaptado.

No Brasil atual, o principal fator que explica o aumento demográfico é:

- (A) Saldo migratório, resultante da diferença quantitativa entre a imigração e a emigração.
- (B) Índice de fecundidade, dependente do aumento do número médio de filhos por mulher.
- (C) Crescimento vegetativo, condicionado pela redução das taxas de natalidade e mortalidade.
- (D) Expectativa média de vida, decorrente da redução constante do número de pessoas idosas.

06 Considere o texto sobre migração no Brasil.

Pela primeira vez desde o começo da série histórica, em 1991, o Estado de São Paulo registrou mais saídas do que entradas de moradores vindos de outros estados, segundo dados do Censo 2022 divulgados pelo IBGE. São Paulo, que historicamente concentrou a chegada de indivíduos oriundos do Nordeste, Sul e Centro-Oeste, apresenta saldo negativo pela primeira vez. Foram 825.958 saídas contra 736.380 entradas, o que resulta no saldo negativo de 89.578 moradores. O novo padrão indica um esgotamento relativo do potencial de atração do estado.

Disponível em: <https://g1.globo.com/economia/censo/noticia/2025/06/27/pela-1a-vez-sp-tem-mais-gente-saindo-do-que-chegando-somente-maior-ganho-no-brasil.ghtml>. Acesso em: 31 out. 2025.

Essa dinâmica populacional paulista é explicada pelo fator:

- (A) Redução da mortalidade infantil
- (B) Elevação do crescimento natural
- (C) Aumento da migração de retorno
- (D) Incremento do ritmo da imigração

07 Considere o texto sobre os fluxos financeiros globais.

Cerca de US\$ 7 trilhões são investidos globalmente a cada ano em atividades que têm um impacto negativo direto na natureza - o equivalente a cerca de 7% do Produto Interno Bruto (PIB) global - de acordo com o último relatório *Estado das Finanças para a Natureza* divulgado pelo Programa das Nações Unidas para o Meio Ambiente (PNUMA) e parceiros. O relatório conclui que, em 2022, os investimentos em soluções baseadas na natureza totalizaram aproximadamente US\$ 200 bilhões, mas os fluxos financeiros para atividades que prejudicam diretamente a natureza foram mais de 30 vezes maiores. Ele expõe uma disparidade preocupante entre os volumes de financiamento para soluções baseadas na natureza e fluxos financeiros negativos à natureza, e ressalta a urgência de enfrentar as crises interligadas de mudanças climáticas, perda de biodiversidade e degradação da terra.

Disponível em: <https://www.unep.org/pt-br/noticias-e-reportagens/comunicado-de-imprensa/fluxos-financeiros-anuais-globais-de-us-7-trilhoes>. Acesso em: 31 out. 2025. Adaptado.

A partir dos dados do relatório do PNUMA, conclui-se que

- (A) o financiamento das soluções baseadas na natureza é responsabilidade exclusiva das políticas governamentais.
- (B) o subfinanciamento das soluções baseadas na natureza é resultado da ampliação dos objetivos do desenvolvimento sustentável.
- (C) o financiamento de soluções baseada na natureza é liderado pela iniciativa privada, especialmente por setores da construção civil, petróleo e gás.
- (D) os financiamentos público e privado têm de aumentar em conjunto com o realinhamento dos fluxos financeiros que geram impacto negativo na natureza.

08 Considere o texto sobre a agricultura brasileira.

Algodão, soja, milho, carnes suína, bovina e frango, e frutas, em especial manga, são os produtos mais dinâmicos da agropecuária brasileira que terão maior crescimento da produção nos próximos 10 anos, segundo

projeções recentes. A produção de soja em 2033/34 está projetada em 199,5 milhões de toneladas. Esse número representa um acréscimo de 35,3% em relação à produção de 2023/24. Mas é um percentual que se situa abaixo do crescimento ocorrido nos últimos dez anos no Brasil, que foi de 71,4%.

Disponível em: <file:///C:/Users/Windows/Downloads/PROJECOES%20DO%20AGRONEGOCIO%202024-2034.pdf>. Acesso em: 31 out. 2025.

O processo impulsionador do crescimento da produção agrícola nacional, no exemplo da soja, encontra-se em:

- (A) Expansão da agricultura familiar
- (B) Aumento da demanda internacional
- (C) Elevação de preços no mercado interno
- (D) Fixação do pequeno produtor no campo

09 Observe a imagem de uma forma de relevo.



Disponível em: [https://alchetron.com/\[.\]](https://alchetron.com/[.]). Acesso em: 31 out. 2025.

No primeiro plano da imagem, registra-se a forma de relevo denominada:

- (A) Cuesta
- (B) Falésia
- (C) Meseta
- (D) Chapada

10 Considere o texto sobre a transição demográfica.

O processo de transição demográfica ou transição vital é uma das principais transformações pelas quais vem passando a sociedade moderna. Ele caracteriza-se pela passagem de um regime com altas taxas de mortalidade e fecundidade/natalidade para outro regime em que ambas as taxas se situam

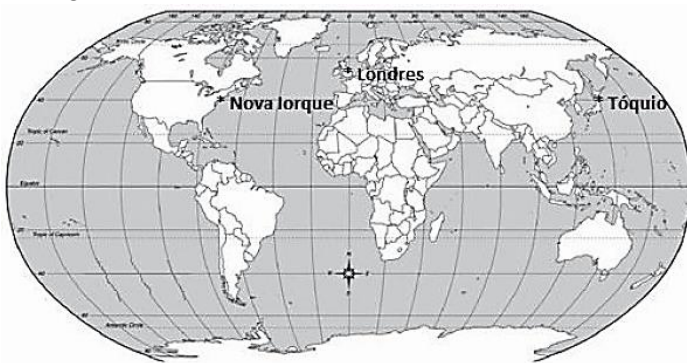
em níveis relativamente mais baixos. [...] No Brasil, seus efeitos passam a ser notados de maneira mais marcante a partir de meados do século passado, e se deram de forma bastante rápida, com as populações sofrendo mudanças bruscas em curtos períodos. Esse comportamento vem provocando mudanças significativas na estrutura etária da população, com importantes implicações para indivíduos, famílias e sociedade.

Disponível em: <https://agenciadenoticias.ibge.gov.br/agencia-sala-de-imprensa/2013-agencia-de-noticias/releases/9831-ibge-lanca-estudo-metodologico-sobre-mudanca-demografica-e-projecoes-de-populacao>. Acesso em: 31 out. 2025. Adaptado.

Em decorrência dessa transição vital no Brasil, identifica-se a seguinte situação demográfica:

- (A) Redução de nascimentos, permitindo a entrada de maior número de crianças no sistema educacional
- (B) Diminuição contínua da população jovem, refletindo efeitos da queda da fecundidade no passado
- (C) Expansão do grupo de adultos, favorecendo o bônus demográfico em função da redução da produtividade do trabalho
- (D) Incremento do acesso de jovens ao ensino superior, decorrendo do aumento do número de jovens em busca de ocupação

11 Considere a imagem com registro de grandes centros urbanos.



(es:imagens.com/mapamundi_para_colorar. Acesso 30.03.2012.)

Disponível em: <https://app.estuda.com/questoes/?id=171337>. Acesso em: 31 out. 2025.

Os três centros registrados na imagem pertencem à classificação urbana:

- (A) Zona Franca
- (B) Cidade global
- (C) Capital nacional
- (D) Distrito industrial

12 Observe a imagem a seguir.



Disponível em: <https://app.estuda.com/questoes/?id=124287>. Acesso em: 31 out. 2025.

Na imagem, o bioma pampa é identificado pelo algarismo:

- (A) 2
- (B) 3
- (C) 5
- (D) 6

13 Considere os textos sobre o Parque Orla Piratininga, em Niterói.

No Parque, observam-se extensas bacias de sedimentação com seus jardins filtrantes à margem da lagoa, que têm o objetivo de minimizar a poluição difusa que escoar para o ambiente lagunar, principalmente através dos rios contaminados. Os principais contaminantes presentes nos rios que desaguam na Lagoa de Piratininga são sólidos provenientes da lixiviação de pisos e da erosão das margens, aliados a alta carga orgânica proveniente do lançamento irregular de esgoto doméstico e lixo descartado de maneira inadequada. Estas estruturas têm a função de realizar a sedimentação dos sólidos suspensos, já retraindo vários elementos que contribuem para o assoreamento da Lagoa e realizando a preparação das águas para serem lançadas aos jardins filtrantes.



Disponível em:
[https://www.caf.com/pt/presente/noticias/inaugurado-em-niteroi-o-maior-projeto-\[...\]do-brasil/](https://www.caf.com/pt/presente/noticias/inaugurado-em-niteroi-o-maior-projeto-[...]do-brasil/) e
<https://www.prosustentavel.niteroi.rj.gov.br/parque-orla-piratininga/>. Acesso em: 31 out. 2025.

A prática ecológica implementada no Parque corresponde à:

- (A) Aquacultura Local
- (B) Agroecologia Urbana
- (C) Compostagem Comunitária
- (D) Solução Baseada na Natureza

14 Considere o texto sobre o conflito geopolítico entre Israel e Hamas.

Pouco tempo se passou desde 7 de outubro de 2023, data que marcou o início dos ataques do Hamas ao território israelense, a partir da Faixa de Gaza. O desenrolar dessas ações provocou a imediata declaração de guerra de Israel contra o Hamas e já computa dados estonteadores de mais de 4 mil mortos entre as partes (cerca de 2.800 palestinos e 1.400 israelenses). O número de feridos ultrapassa a cifra de 14 mil. Além disso, há cidadãos de diferentes nacionalidades mantidos em cativeiro pelo Hamas. Esse número já se aproxima de duas centenas, conforme a fonte declarante.

Disponível em: https://www.gov.br/esg/pt-br/centrais-de-conteudo/publicacoes/livretos/arquivos/2023_10_24_conflito_israel_livreto_2-1-1.pdf. Acesso em: 31 out. 2025. Adaptado.

O aspecto político geográfico vinculado a esse conflito é o seguinte:

- (A) A presença permanente de tropas da ONU no enclave palestino
- (B) A revisão do Tratado de Oslo na implantação do Estado da Palestina
- (C) A mudança do governo de Gaza do grupo Hamas pelo seu rival Fatah

- (D) O valor estratégico do Oriente Médio na rivalidade sino-estadunidense

15 Considere o texto sobre o atual conflito na Eurásia.

A Ucrânia está tentando evitar que suas tropas sejam cercadas em uma batalha crucial contra a Rússia na cidade de Pokrovsk, na frente leste da guerra. A queda da cidade seria uma vitória política importante para o ditador Vladimir Putin, que afirma que a região de Donetsk, onde fica Pokrovsk, já foi incorporada ao seu país mesmo sem que suas tropas consigam ganhar a totalidade do território. O desfecho da batalha pode ser o evento militar mais importante da guerra em 2025 e influenciar o apoio dos Estados Unidos à Ucrânia.

Disponível em:
<https://www.gazetadopovo.com.br/mundo/ucrania-e-russia-disputam-pokrovsk-por-estrategia-militar-e-pelo-apoio-dos-eua/>. Acesso em: 31 out. 2025.

Nesse episódio do conflito geopolítico, fica explícita a seguinte condição:

- (A) Relevância estratégica de Pokrovsk, sobretudo, como centro logístico
- (B) Desvantagem das tropas russas em efetivo, bem como em equipamento
- (C) Vantagem ucraniana no lançamento de drones em comparação à Rússia
- (D) Prioridade russa de Pokrovsk, embora não ajude a conquista de Donetsk

16 Considere os textos abaixo sobre um conflito geopolítico.

Iniciado em 2011, o conflito na Síria se tornou um dos episódios mais devastadores e complexos do século XXI. Envolvendo disputas internas, interesses geopolíticos e uma crise humanitária sem precedentes, a guerra civil transformou completamente o país e toda a dinâmica geopolítica do Oriente Médio.



Disponível em:
<https://wp.ufpel.edu.br/pelotasmun/2025/05/02/siria-da-guerra-civil-a-queda-de-bashar-al-assad-e-o-novo-contexto-politico/>. Acesso em: 31 out. 2025.

Essa guerra civil síria provoca o seguinte efeito direto:

- (A) Evasão crescente de refugiados do País
- (B) Rejeição do Hezbollah ao governo sírio
- (C) Unificação da oposição política no País
- (D) Permanência do governo Assad no poder

17 Considere o texto sobre blocos regionais.

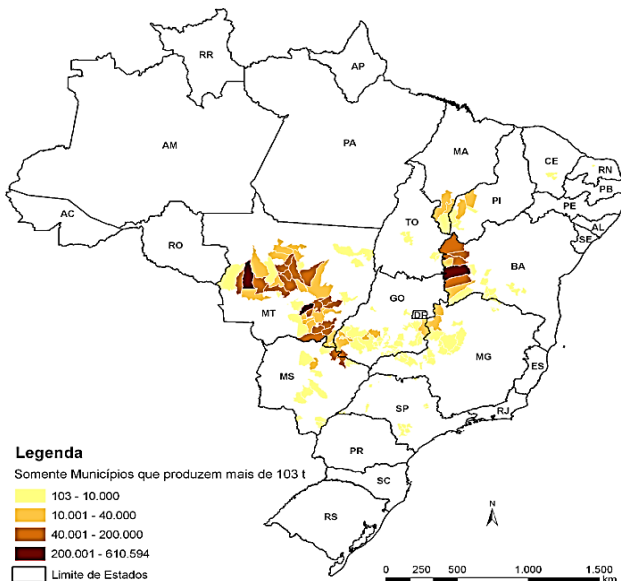
Os blocos regionais são associações realizadas por países em prol do desenvolvimento social, político e econômico de seus membros. Essas alianças são feitas principalmente para garantir ajuda mútua e desenvolver a economia de todos os envolvidos. Há um tipo de bloco constituído por uma integração ampla no campo econômico, com o desenvolvimento do comércio (importação e exportação) e do campo político – com políticas comuns adotadas entre os países –, além da criação e adoção de uma moeda única pelos membros.

Disponível em:
<https://brasilecola.uol.com.br/geografia/acordos-economicos.htm>. Acesso em: 31 out. 2025. Adaptado.

O tipo de bloco regional mencionado é exemplificado por:

- (A) Nafta
- (B) Mercosul
- (C) União Europeia
- (D) Comunidade Andina

18 Observe a imagem sobre as áreas de um produto agrícola.

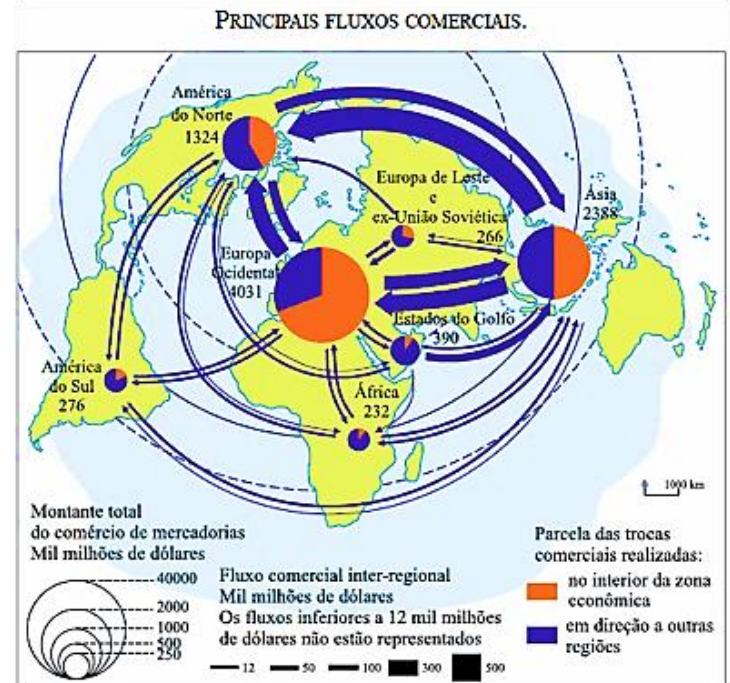


Disponível em:
https://gonzagacosta.blogspot.com/2014/12/decre-sce-safra-brasileira-de-..._30.html. Acesso em: 15 nov. 2023.

Nesse recorte regional, destaca-se o seguinte cultivo agrícola:

- (A) Soja
- (B) Café
- (C) Milho
- (D) Algodão

19 Observe a imagem a seguir.



Disponível em:
http://www.geografiaparatodos.com.br/index.php?pag=captulo_4_globalizacao_e_redes_da_economia%20mundial. Acesso em: 31 out. 2025.

No hemisfério setentrional, o maior fluxo de trocas comerciais em direção a outras regiões é realizado em:

- (A) América do Sul, decorrente da soja
- (B) África, devido aos gêneros agrícolas
- (C) Oriente Médio, em função do petróleo
- (D) Ásia, devido aos produtos tecnológicos

20 Observe a imagem abaixo.



Disponível em:

<https://exercicios.brasilecola.uol.com.br/exercicios-geografia-do-brasil/exercicios-sobre-urbanizacao-atual-brasil.htm>. Acesso em: 31 out. 2025.

Na imagem, regista-se o seguinte aspecto do processo de urbanização:

- (A) Turistificação das áreas nobres
(B) Favelização das zonas periféricas
(C) Verticalização dos grandes centros
(D) Reabilitação de zonas deterioradas