



<b>REINGRESSO E MUDANÇA DE CURSO</b>	<b>2024</b>	<b>GEOGRAFIA</b>
--	-------------	------------------

## CADERNO DE QUESTÕES

### INSTRUÇÕES AO CANDIDATO

- Você deverá ter recebido o Caderno com a Proposta de Redação, a Folha de Redação, dois Cadernos de Questões e o Cartão de Respostas com o seu nome, o seu número de inscrição e a modalidade de ingresso. Confira se seus dados no Cartão de Respostas estão corretos e, em caso afirmativo, assine-o e leia atentamente as instruções para seu preenchimento.
- Verifique se este Caderno contém enunciadas 20 (vinte) questões de múltipla escolha de **GEOGRAFIA** e se as questões estão legíveis, caso contrário **informe imediatamente ao fiscal**.
- Cada questão proposta apresenta quatro opções de resposta, sendo apenas uma delas a correta. A questão que tiver sem opção assinalada receberá pontuação zero, assim como a que apresentar mais de uma opção assinalada, mesmo que dentre elas se encontre a correta.
- Não é permitido usar qualquer tipo de aparelho que permita intercomunicação, nem material que sirva para consulta.
- O tempo disponível para a realização de todas as provas, incluindo o preenchimento do Cartão de Respostas é, no mínimo, de **uma hora e trinta minutos** e, no máximo, de **quatro horas**.
- Para escrever a Redação e preencher o Cartão de Respostas, use, exclusivamente, caneta esferográfica de corpo transparente de ponta grossa com tinta azul ou preta (preferencialmente, com tinta azul).
- Certifique-se de ter assinado a lista de presença.
- Se você terminar as provas antes de três horas do início das mesmas, entregue também ao fiscal os Cadernos de Questões e o Caderno com a Proposta de Redação.
- Quando terminar, entregue ao fiscal a Folha de Redação, que será desidentificada na sua presença, e o Cartão de Respostas assinado e com a frase abaixo transcrita. A não entrega implicará a sua eliminação no Concurso.

AGUARDE O AVISO PARA INICIAR SUAS PROVAS.

FRASE A SER TRANSCRITA PARA O CARTÃO DE RESPOSTAS NO  
QUADRO "EXAME GRAFOTÉCNICO"

Estar preparado é metade da vitória.

Miguel de Cervantes



01 Considere o texto sobre o processo de urbanização.

Uma fobópole é uma cidade dominada pelo medo da criminalidade violenta. A criminalidade violenta, especialmente aquela vinculada a razões econômicas (roubos, latrocínios etc.), tem sido um marco muito comum das cidades ao longo da história, mas não chegava a sobressair tanto assim em comparação com muitas outras preocupações, como fome, doenças e a violência decorrente de guerras constantes.

SOUZA, M. *Fobópole*. Rio de Janeiro: Bertrand Brasil, 2008, p. 37-8. Adaptado.

O conceito urbano descrito remete-se diretamente ao problema socioespacial de

- (A) educação básica.
- (B) segurança pública.
- (C) déficit habitacional.
- (D) planejamento regional.

02 Considere o texto sobre reserva extrativista.

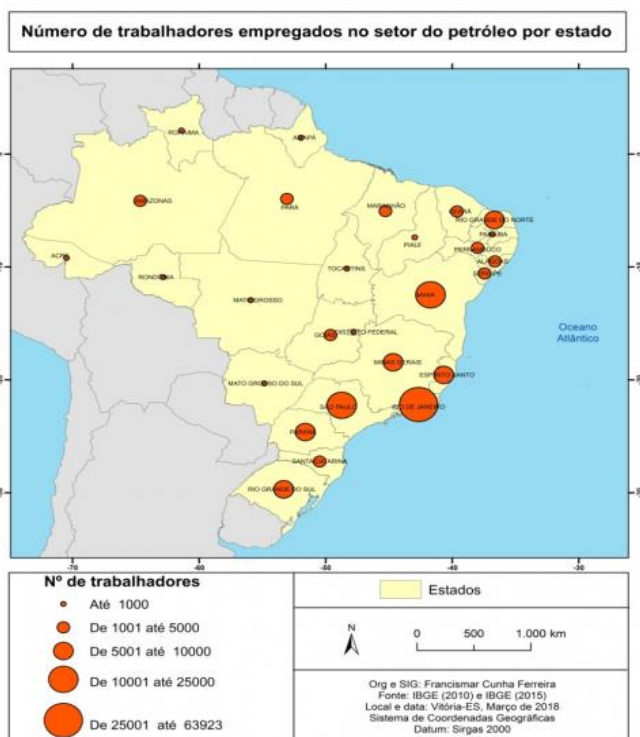
A reserva extrativista – Resex – é uma unidade de conservação de uso sustentável considerada um instrumento para uma nova abordagem de gestão e planejamento ambiental. A Resex expressa territorialidades, representando a reivindicação dos povos da floresta por áreas de peculiaridades históricas, econômicas e culturais, caracterizadas por grupos sociais tradicionais.

BECKER, O. A reserva extrativista como instrumento de gestão territorial e ambiental. In: Steinberg, M. (Org.). *Território, Ambiente e Políticas Públicas Espaciais*. Brasília: Paralelo 15 e LGE, 2006, p. 350. Adaptado.

As reservas extrativistas têm, respectivamente, a seguinte localização regional e o principal objetivo:

- (A) Nordeste, estimular a migração de retorno
- (B) Norte, proteger o capital social e ecológico
- (C) Nordeste, preservar faixas de Mata Atlântica
- (D) Norte, garantir a extração de recursos madeireiros

03 Observe a imagem a seguir.



Disponível em:  
[https://journals.openedition.org/espacoeconomia/18262?](https://journals.openedition.org/espacoeconomia/18262?lang=en)  
lang=en Acesso em: 15 nov. 2023.

Os maiores contingentes de trabalhadores do setor petrolífero concentram-se na seguinte região:

- (A) Sul
- (B) Sudeste
- (C) Nordeste
- (D) Centro-Oeste

**04** Considere o texto sobre a hierarquia urbana brasileira.

A hierarquia urbana é um modelo hierárquico entre as cidades. Ela determina a estrutura econômica em diversas escalas de organização (e posições), o que cria uma rede de ligações e influências entre os centros urbanos do mundo (pequenas, médias e grandes cidades). No Brasil, podem-se identificar metrópoles, capitais regionais, centros sub-regionais, centros de zona e centros locais.

Disponível em: <https://www.todamateria.com.br/hierarquia-urbana/>. Acesso em: 15 nov. 2023. Adaptado.

Na Região Sudeste, é classificado como centro sub-regional:

- (A) Vitória
- (B) Campinas
- (C) Rio de Janeiro
- (D) Angra dos Reis

**05** Considere o texto sobre fluxos populacionais no Brasil.

Refugiados deixam os seus países de origem por medo da perseguição. É uma situação diferente da migração econômica – quando uma pessoa se muda para outro lugar para ter mais oportunidades de ganhar dinheiro e se livrar da pobreza. A legislação brasileira tem como base a Convenção da ONU sobre Refugiados, que, na prática, estabelece o medo de voltar para casa como motivo para reconhecer os pedidos de refúgio.

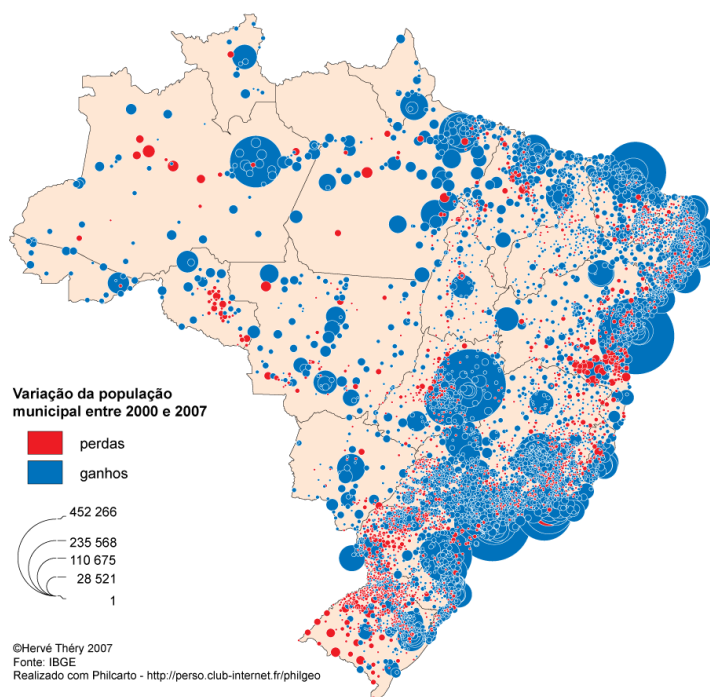
Disponível em: <https://especiais.g1.globo.com/mundo/2019/refugiados-no-brasil/>. Acesso em: 15 nov. 2023. Adaptado.

Nesse contexto, a principal razão que motiva os pedidos de refúgio deferidos no Brasil é a:

- (A) Opinião política
- (B) Prática religiosa
- (C) Designação étnica
- (D) Violação de direitos

06 Observe a imagem abaixo.

### Evolução da população brasileira entre 2000 e 2007



Disponível em: <https://journals.openedition.org/confins/993?lang=pt>. Acesso em: 15 nov. 2023.

Na Amazônia, a porção territorial que registrou as maiores perdas populacionais é o:

- (A) Complexo de Carajás
- (B) Vale do rio Solimões
- (C) Eixo da Transamazônica
- (D) Eixo da Cuiabá-Santarém

07 Considere o texto sobre fluxos globais.

Os Estados nacionais precisam, cada vez mais, zelar pelos interesses não apenas de seus capitais domésticos, mas também pelos interesses do capital imperialista dominante – norte-americano –, na medida em que se encontram todos articulados, em menor ou maior grau, à economia norte-americana. A articulação de interesses intercapitalistas globais – fundamentalmente financeiros –, no interior dos blocos nacionais no poder, se, por um lado, reforça as relações hierárquicas entre os Estados nacionais na estrutura capitalista mundial; por outro lado, provoca uma maior heterogeneidade dos interesses que compõem os blocos nacionais no poder.

SOUZA, A. Financeirização e Estados Nacionais. *Cadernos Cemarx*, n. 2, 2005, p. 34. Adaptado

Da situação mencionada, decorre a seguinte consequência político-geográfica:

- (A) Enfraquecimento da economia estadunidense, devido à atuação crescente das máfias globalizadas.
- (B) Protagonismo global das economias emergentes, devido aos investimentos externos diretos do capital financeiro.
- (C) Ressurgimento do imperialismo, devido à hegemonia regional dos Estados Nacionais semiperiféricos.
- (D) Reacomodação das relações de poder dentro dos Estados, devido à internacionalização do capital.

**08** Considere o texto sobre a agricultura brasileira.

A cesta de produtos da agricultura brasileira é bastante diversificada e é destinada tanto ao consumo interno quanto ao mercado externo. Muitos produtos agrícolas brasileiros figuram entre os principais itens de exportação do país, como é o caso da soja, do milho, do café e de derivados da cana-de-açúcar. Quando comercializados na sua forma *in natura*, sem passarem por processos de beneficiamento, esses produtos são chamados de *commodities* agrícolas. Existe uma diferença importante com relação à produção das *commodities* agrícolas e dos demais itens consumidos no mercado interno, como alimentos. As *commodities* agrícolas do Brasil são monoculturas produzidas em grandes propriedades de terra, chamadas de latifúndios, enquanto grande parte dos alimentos é cultivada em pequenas e médias propriedades.

Disponível em: <https://brasilecola.uol.com.br/brasil/agricultura.htm>. Acesso em: 15 nov. 2023.

Essa produção de *commodities* agrícolas está diretamente relacionada à seguinte característica do espaço rural brasileiro:

- (A) Concentração da estrutura fundiária
- (B) Protagonismo da agricultura familiar
- (C) Fixação do trabalhador rural no campo
- (D) Redução da poluição do solo e da água

**09** Observe a imagem de uma paisagem planáltica.



Disponível em: <https://escolakids.uol.com.br/geografia/planaltos.htm>. Acesso em: 15 nov. 2023.

Na imagem, predomina uma forma de relevo com estrutura:

- (A) Cárstica
- (B) Cristalina
- (C) Vulcânica
- (D) Sedimentar

**10** Considere o texto sobre a dinâmica demográfica no Brasil.

A direção da dinâmica da população brasileira, na primeira metade deste século, tanto pelo seu calibre quanto pela sua estrutura etária, já está delineada. Tanto a mudança na taxa de mortalidade quanto na de fecundidade já estão muito adiantadas. A pirâmide etária brasileira, que possuía uma base larga e o topo estreito, apregoando a superioridade de crianças e jovens, recentemente apresenta novas características. Ou seja, enquanto a população idosa (65 e mais anos de idade) acrescentará a taxas elevadas, de 2% a 4% ao ano; a população jovem irá diminuí-la. Conforme projeções da ONU, de 3,1%, em 1970, a população idosa brasileira passará a aproximadamente 19% até 2050.

Disponível em: <https://www.todamateria.com.br/populacao-brasileira/>. Acesso em: 15 nov. 2023. Adaptado.

Uma consequência dessa nova direção da dinâmica demográfica no Brasil é a:

- (A) Expansão da base da pirâmide
- (B) Elevação do déficit previdenciário
- (C) Retração da expectativa média de vida
- (D) Redução da população economicamente ativa

**11** Considere o texto sobre o espaço urbano brasileiro.

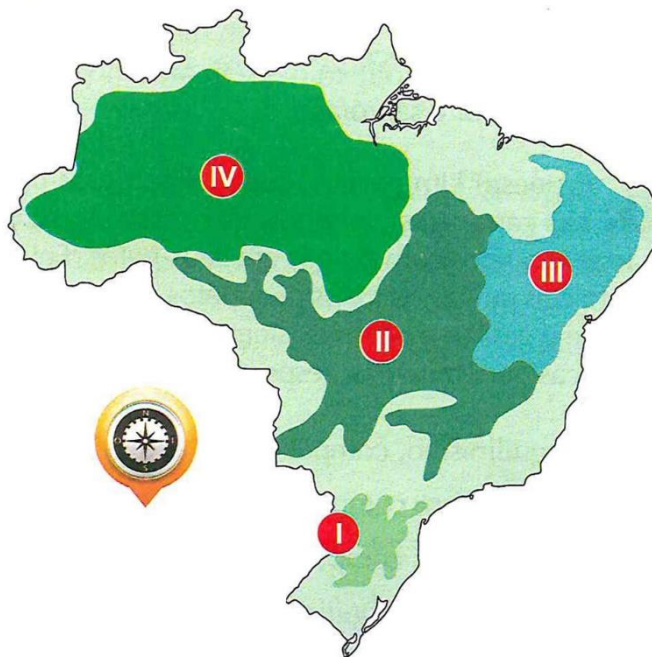
A década de 1960 foi o período em que o Brasil, pela primeira vez, passou a ter uma população predominantemente urbana, ou seja, a maior parte dos habitantes concentrava-se nas cidades. Atualmente, mais de 80% dos habitantes do Brasil residem em cidades, sendo a maioria desses em grandes centros urbanos e capitais. Além de um acelerado êxodo rural, a urbanização brasileira contou com um intenso processo de metropolização. Esse foi um dos motivos responsáveis pela desigualdade tanto em tamanho das cidades e número de habitantes quanto em níveis de avanço econômico e ofertas de infraestrutura no espaço urbano brasileiro. A região Sudeste, dessa forma, abrange a maior parte dos habitantes e possui as maiores taxas de urbanização. Por outro lado, a região Norte e algumas áreas da região Nordeste apresentam números mais modestos nesse sentido.

Disponível em: <https://mundoeducacao.uol.com.br/geografia/o-espaco-urbano-brasileiro.htm>. Acesso em: 15 nov. 2023.

No território nacional, dentre os estados menos urbanizados, identifica-se o seguinte:

- (A) Pará
- (B) Goiás
- (C) São Paulo
- (D) Minas Gerais

12 Observe a imagem a seguir.



Disponível em: <https://www.indagacao.com.br/2018/04/o-mapa-abaixo-indica-quatro-biomas.html>. Acesso em: 15 nov. 2023.

Na imagem, o bioma do cerrado é identificado pelo algarismo:

- (A) I
- (B) II
- (C) III
- (D) IV

13 Considere o texto sobre sustentabilidade ambiental.

Na conservação do meio ambiente, além de se tentar compreender as consequências que os diversos tipos de impactos negativos podem provocar, também deve-se buscar formas de amenizar os danos. Existem várias estratégias de proteção à natureza, sendo a mais eficaz a criação de áreas protegidas, denominada conservação *in situ*. Outra estratégia é a conservação *ex-situ*, voltada à proteção de indivíduos, ou parte deles (sementes, genes), fora do seu ambiente natural. Há, especificamente, uma estratégia que consiste na criação de áreas que interligam fragmentos de *habitat*, permitindo que indivíduos e/ou sementes transitem entre esses fragmentos.

Disponível em: <https://edisciplinas.usp.br/mod/book/view.php?id=2438695&chapterid=20785>. Acesso em: 15 nov. 2023.

Essa estratégia que permite a interligação de *habitats* recebe a denominação específica de:

- (A) Estação ecológica
- (B) Reserva biológica
- (C) Corredor ecológico
- (D) Monumento natural



**14** Considere o texto sobre o conflito geopolítico entre Ucrânia e Rússia.

A Guerra entre a Rússia e a Ucrânia é um conflito que acontece no leste do continente europeu. Após um longo período marcado pelo acirramento das tensões entre ambos, as tropas russas invadiram o país vizinho em 24 de fevereiro de 2022, promovendo ataques a cidades situadas próximo da capital da Ucrânia, Kyiv, e outros pontos estratégicos do território ucraniano. O contra-ataque realizado pela Ucrânia em meados de 2022 fez com que a Rússia recuasse em alguns pontos, mas o país ainda mantém domínio sobre grandes áreas no leste e no sul da Ucrânia.

Disponível em: <https://brasilecola.uol.com.br/geografia/guerra-entre-russia-e-ucrania.htm>. Acesso em: 15 nov. 2022. Adaptado.

O transcurso desse conflito geopolítico acarretou a seguinte consequência:

- (A) auxílio financeiro, militar e humanitário à Rússia
- (B) sanções econômicas de países europeus à Ucrânia
- (C) isolamento diplomático da Ucrânia na escala mundial
- (D) encarecimento internacional de combustíveis e alimentos

**15** Considere o texto sobre o atual conflito no Oriente Médio.

Há semanas, o mundo acompanha a escalada da violência na guerra entre Israel e Hamas, no Oriente Médio. O atual conflito teve início com o mais grave ataque já promovido pelo grupo Hamas contra os israelenses, no dia 7 de outubro. As ações, sem precedentes na história, foram realizadas por mar, ar e terra e envolveram ataques ao público que participava de um festival de música, invasão de comunidades em Israel, sequestro de pessoas, deixando centenas de civis israelenses mortos e feridos. Em retaliação, Israel desencadeou forte operação de bombardeios à faixa de Gaza, território com população majoritariamente palestina e controlada pelo Hamas.

Disponível em: <https://agenciabrasil.ebc.com.br/internacional/noticia/2023-10/mais-de-6-mil-pessoas-morreram-na-guerra-entre-israel-e-hamas>. Acesso em: 15 nov. 2023. Adaptado.

Esse conflito entre israelenses e palestinos tem como origem o fator geopolítico:

- (A) Dissidência religiosa
- (B) Disputa de territórios
- (C) Diversidade ecológica
- (D) Dominância econômica

**16** Considere o texto sobre o conflito entre Haiti e República Dominicana.

O presidente da República Dominicana, Luis Abinader, ordenou o fechamento de todas as fronteiras com o Haiti, após vários dias de reuniões entre autoridades dos dois países que tentavam chegar a um acordo no conflito sobre o acesso à água do rio Massacre, que funciona como fronteira natural entre os dois países. Isto inclui travessias de fronteiras aéreas, terrestres e marítimas.

Disponível em: <https://www.cnnbrasil.com.br/internacional/república-dominicana-fecha-fronteiras-com-o-haiti/>. Acesso em: 15 nov. 2023. Adaptado.

Identifica-se como uma das causas desse conflito:

- (A) A disputa pela exploração turística da área do vale do rio Massacre
- (B) A construção de um canal de desvio das águas do rio Massacre no Haiti
- (C) A declaração do governo do Haiti sobre o fechamento das suas fronteiras
- (D) O fluxo migratório de trabalhadores haitianos para a República Dominicana

**17** Considere o texto sobre o MERCOSUL.

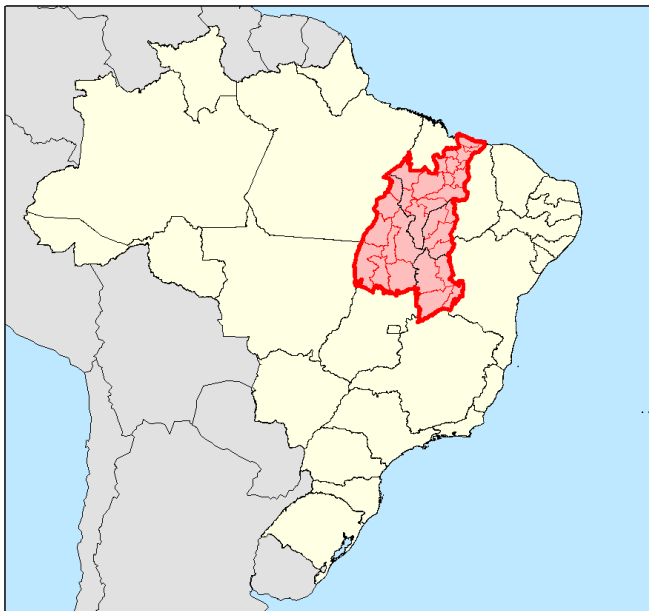
O Mercado Comum do Sul (Mercosul) é um bloco econômico sul-americano criado em 1991. São membros fundadores do bloco: Brasil, Argentina, Paraguai e Uruguai. Essa integração entre países sul-americanos busca favorecer o desenvolvimento econômico, social e político de seus membros e associados. Para isso, tem como objetivo central promover a livre circulação de bens, serviços, capital e pessoas, com redução parcial ou total de tarifas, barreiras alfandegárias e impostos.

Disponível em: <https://mundoeducacao.uol.com.br/geografia/mercosul.htm>. Acesso em: 15 nov. 2023.

Esse bloco regional também conta com estados associados, dentre eles:

- (A) Chile
- (B) México
- (C) Panamá
- (D) Venezuela

**18** Observe a imagem do recorte regional MATOPIBA.

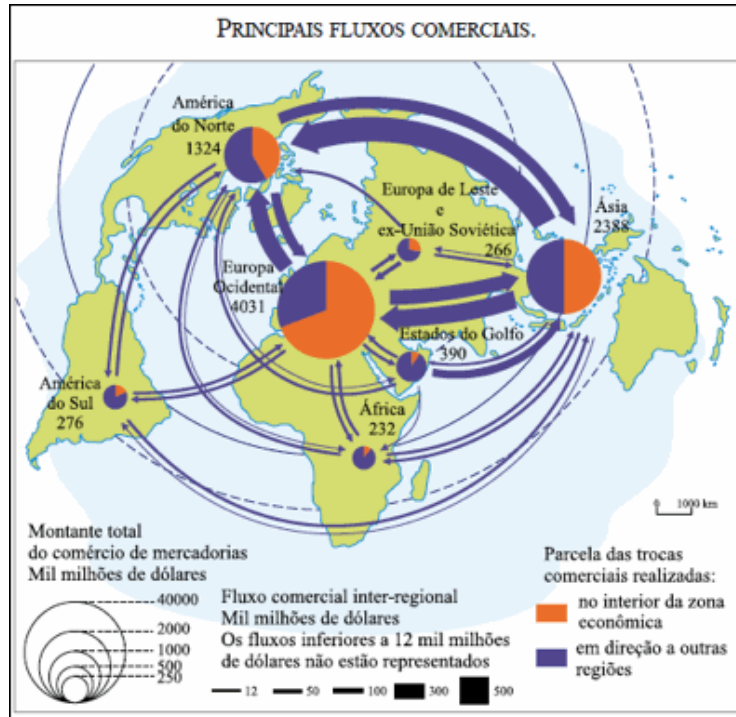


Disponível em.: <https://pt.wikipedia.org/wiki/MATOPIBA>. Acesso em: 15 nov. 2023.

Nesse recorte regional, destaca-se majoritariamente o seguinte cultivo agrícola:

- (A) Cana
- (B) Soja
- (C) Café
- (D) Arroz

19 Observe a imagem a seguir.




Disponível em: [http://www.geografiaparatodos.com.br/index.php?pag=captulo\\_4\\_globalizacao\\_e\\_redes\\_da\\_economia%20mundial](http://www.geografiaparatodos.com.br/index.php?pag=captulo_4_globalizacao_e_redes_da_economia%20mundial). Acesso em: 15 nov. 2023.

O maior fluxo inter-regional é realizado entre os blocos regionais da:

- (A) Ásia e América do Sul
- (B) Ásia e América do Norte
- (C) Europa e América do Sul
- (D) Europa e América do Norte

20 Observe a imagem abaixo.



Disponível em: <https://blogs.iadb.org/brasil/pt-br/favela-bairro-avaliacao-de-resultados-10-anos-depois/>. Acesso em: 15 nov. 2023.

No primeiro plano da fotografia, identifica-se o seguinte problema:

- (A) Gentrificação na área central
- (B) Turistificação na orla marítima
- (C) Insegurança pública na periferia
- (D) Segregação socioespacial na cidade